

**రాజీవ్ విద్యా మిషన్ (ఎస్.ఎస్.ఎ), ఆంధ్రప్రదేశ్, హైదరాబాదు**  
**సంగ్రహణాత్మక మదింపు / సమ్మేటివ్ అసెస్మెంట్**

విషయం: గణితం

తరగతి: 1


సమయం: 90 నిమిషాలు

విద్యార్థి పేరు: \_\_\_\_\_

రోల్ నెం: \_\_\_\_\_

Acad. Stand.	Problem Solving					Reasoning & Proof					Communication					Connection					Representation					Over all Grade
	1	6	13	19	21	3	8	11	17	20	2	4	7	10	22	9	16	18	24	25	12	5	14	15	23	
Q. No																										
Q. wise Grade																										
Acad. Stand. wise Grade																										

**I. మౌఖిక పరీక్ష**

1. రాజు వద్ద 4 చాక్లెట్లు, అక్షర వద్ద 3 చాక్లెట్లు ఉన్నాయి. మొత్తం చాక్లెట్లు ఎన్ని?
2. 5 తరువాత వచ్చే సంఖ్య ఏది?
3. 8, 3 సంఖ్యలలో చిన్న సంఖ్య ఏది?
4. '7' ఈ సంఖ్యను చదవండి.
5. 9 సంఖ్యకు సరిపడు పుల్లలను చూపించండి.
6. లత దగ్గర 2 పెన్నులు ఉన్నాయి. లత తమ్ముడి దగ్గర 4 పెన్నులు ఉన్నాయి. మొత్తం పెన్నులు ఎన్ని?
7.  పక్క చిత్రంలోని బొమ్మలు ఎన్ని?
8. ఏ రెండంకెల మొత్తం '4' అవుతుందో తెల్పండి.
9. రాజు తోటలో 2 పువ్వులు, బడి దగ్గర 3 పువ్వులు సేకరించాడు. అతని వద్ద ఉన్న మొత్తం పువ్వులు ఎన్ని?
10. 4, 6, 3 సంఖ్యలను చిన్న సంఖ్య నుండి పెద్ద సంఖ్య వరకు చెప్పండి.




## II. రాత పరీక్ష

11. కింది సంఖ్యలను పరిశీలించి, ఖాళీ గడులను పూరించండి.

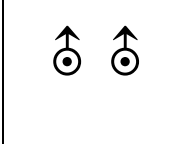
5	6	5	6	5			
---	---	---	---	---	--	--	--

12. 'ఏడు' సంఖ్యను రాయండి

13. ఒక రోజు అక్షర వాళ్ల నాన్న '8' చాక్లెట్లు తెచ్చాడు. అక్షర తన తమ్ముడికి '4' చాక్లెట్లు ఇచ్చింది. మిగిలినవి తన దగ్గర ఉంచుకుంది. ఆమె దగ్గర మిగిలిన చాక్లెట్లు ఎన్ని?

14.  +  =  ప్రక్క చిత్రం ఆధారంగా తగు సంఖ్యలతో ఖాళీ గడులను పూరించండి.

+  =

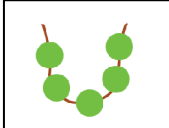
15.  చిత్రాన్ని ప్రక్క గడిలో గీయండి. గడిలో ఎన్ని బొమ్మలు గీసావో సంఖ్యలతో సూచించండి

16. 

పేరు	పెన్నులు
అరుణ	4
ప్రభాస్	7

 ఎవరి దగ్గర ఎక్కువ పెన్నులు ఉన్నాయి?

17. పెద్ద సంఖ్యకు '0' చుట్టండి  
(అ) 5, 4                      (ఆ) 1, 9

18.  ప్రక్క నున్న దండలో గల పూసల సంఖ్య =

19. 4 + 3 విలువ ఎంత?

20. 3, 4, 5, , , ,  ను పరిశీలించి ఖాళీ గడులను సరియైన సంఖ్యలతో పూరించండి.

21. ఒక పూలదండలో 5 గులాబీలు, 3 బంతి పువ్వులు ఉన్నాయి. దండలో మొత్తం పువ్వులు ఎన్ని?

22. 3, 7, 4 సంఖ్యలను చిన్న సంఖ్య నుండి పెద్ద సంఖ్య వరకు రాయండి.

23. 4, 6ల మధ్య వచ్చే సంఖ్యను రాయండి.

24. పట్టికలో ఎవరి దగ్గర తక్కువ పెన్నులు ఉన్నాయి.

పేరు	పెన్నులు
రాజు	8
లత	7

25. కింది వాటిని జతపరచండి.

